




検定問題



☆問題はすべて^{せんたく}選択問題です。1～4の番号で答えます。

☆問1から問30について、問題文をよく読んで答えを1つ選んでください。

☆解答用紙の^{かいとうらん}解答欄には、選んだ番号にそれぞれ○をつけてください。

☆解答時間は40分です。

1. 次の文章は国分寺市内の遺跡^{いせき}について述べたものです。()に当てはまるものの組み合わせとして、正しいものは次のうちどれでしょう。

今からおよそ(あ)の縄文時代^{じょうもんじだい}中ごろ、気候^{おんだんか}が温暖化したことで食料^ふが増え、国分寺市域^{しいき}も他の地域^{ちいきどうよう}同様、人々が定住して大集落をつくるようになりました。国分寺市では(あ)より古い時代から、わき水が出ている国分寺崖線^{こくぶんじがいせん}周辺に集落をつくり、狩り^かや(い)をして暮らしていたことが市内の遺跡^{いせき}からわかり、縄文時代の遺跡からは石器^{いせき}や(う)など当時の人々が使った道具^{じゅうきよあと}や住居跡^{じゅうきよあと}が発見されています。

- | | | | | | | | | | |
|---|---|---|-----------|---|---|---------------------|---|---|----|
| 1 | あ | — | 4～5000年前 | い | — | 採集 ^{さいしゅう} | う | — | 土器 |
| 2 | あ | — | 約3万5000年前 | い | — | 稲作 ^{いなさく} | う | — | 鉄器 |
| 3 | あ | — | 4～5000年前 | い | — | 稲作 | う | — | 鉄器 |
| 4 | あ | — | 約3万5000年前 | い | — | 牧畜 ^{ぼくちく} | う | — | 土器 |

2. ハケと呼ばれる国分寺崖線^{こくぶんじがいせん}は、豊かな緑^{ゆた}と崖線下のわき水^{がいせんした}をもち、恵まれた自然環境^{しぜんかんきょう}を保っています。この地形は、川の流^{たも}れが長い時間をかけて作り上げました。地形を作った現在の川^{げんざい}の名前として、正しいものは次のうちどれでしょう。

- 1 神田川^{かんだがわ}
- 2 多摩川^{たまがわ}
- 3 荒川^{あらかわ}
- 4 利根川^{とねがわ}

3. わたしたちが通っている学校がある国分寺市は、かつて武蔵国と呼ばれていた地域のなかにあります。武蔵国の範囲として一番近いものは、次のうちどれでしょう。

- 1 東京都 ・ 山梨県 ・ 埼玉県の一部
- 2 東京都 ・ 千葉県 ・ 茨城県の一部
- 3 東京都 ・ 埼玉県 ・ 千葉県の一部
- 4 東京都 ・ 埼玉県 ・ 神奈川県の一部

4. 東山道武蔵路の交通について述べた文として、正しいものは次のうちどれでしょう。

- 1 東山道本道と武蔵国府をつなぐ道として東山道武蔵路がつくられ、主に役人が利用した。
- 2 東山道本道と武蔵国府をつなぐ道として東山道武蔵路がつくられ、主に近隣に住む人々が生活のために利用した。
- 3 幕府と各地方を結ぶ道として東山道武蔵路がつくられ、武士がさかんに利用した。
- 4 幕府と各地方を結ぶ道として東山道武蔵路がつくられ、行商のためにさかんに商人が利用した。

5. 武蔵^{むさし}国分寺がはじめて建てられたのは、今からおよそ何年前^{なんねんまえ}のことですか。
一番近いものは、次のうちどれでしょう。

- 1 900 年前
- 2 1100 年前
- 3 1300 年前
- 4 1500 年前

6. 聖武^{しょうむ}天皇は日本社会^{てんのう}が混乱^{こんらん}していた時に、仏教^{ぶつぎょう}の力を借りて国を治めようとしてそれぞれの国に国分寺を建てるように命令^{こんりゆう}（＝国分寺^{みことのり}建立の詔）を出しました。仏教の教えを説いた人は、次のうちどれでしょう。

- 1 キリスト
- 2 卑弥呼^{ひみこ}
- 3 ムハンマド
- 4 釈迦^{しゃか}

7. 聖武天皇が国分寺建立の詔を出した時代として正しいものは、次のうちどれでしょう。

- 1 飛鳥^{あすか}時代
- 2 白鳳^{はくほう}時代
- 3 奈良^{なら}時代
- 4 平安^{へいあん}時代

8. 国分寺^{こんりゅう みことのり}建立の詔の内容として正しいものは、次のうちどれでしょう。

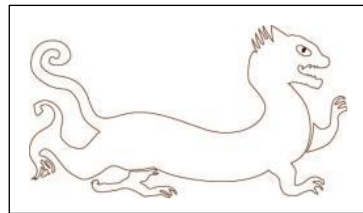
- 1 国ごとに五重塔^{ごじゅうのとう}をつくり、お経^{きょう}を10部写しなさい。
- 2 僧寺^{そうじ}には30人の僧侶^{そうりよ}を住ませなさい。
- 3 尼寺^{にじ}には10人の尼僧^{にそう}を住ませなさい。
- 4 郡司^{ぐんじ}はいつも国分寺^{こんりゅう}を監督^{かんとく}しなさい。

9. 国分寺建立の詔には、尼寺の正式な名前が書かれています。正式な名前として正しいものは、次のうちどれでしょう。

- 1 法華滅罪之寺^{ほっけめつざいのてら}
- 2 大般若経之寺^{だいほんにゃきょうのてら}
- 3 平等之寺^{びやうどうのてら}
- 4 金光明四天王護国之寺^{こんこうみょうしてんのうごこくのてら}

10. 武蔵^{むさし}国分寺が今の場所に選ばれた理由の1つに、この場所が四神相応^{しじんそうおう}の地であることが考えられています。右の図は伝説上の動物である四神「白虎^{びやっこ}」です。白虎が守っていた方角と場所の組み合わせとして正しいものは、次のうちどれでしょう。

- 1 東 — 作物がよく育つ場所
- 2 西 — 東山道武蔵路^{とうさんどうむさしみち}
- 3 南 — 野川^{のがわ}
- 4 北 — 国分寺崖線^{こくぶんじがいせん}



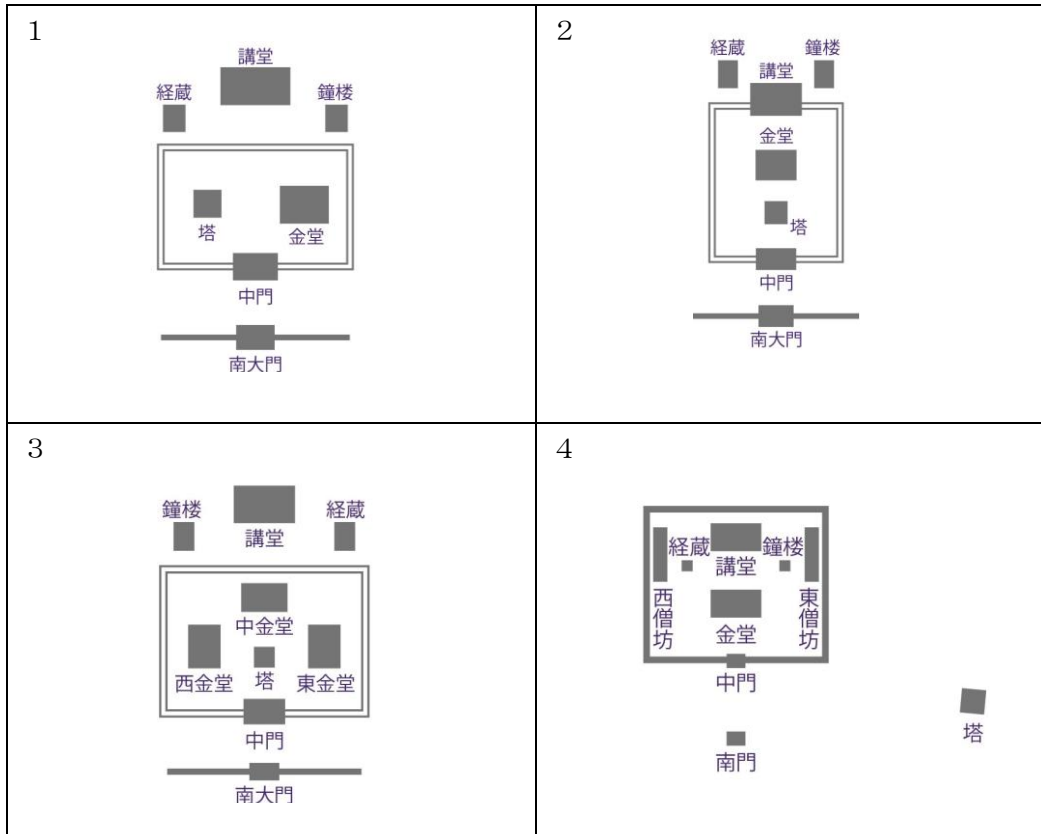
11. 武蔵^{むさし}国分寺の主な建物が完成するまでに、どれくらいの期間がかかったと考えられていますか。一番近いのは次のうちどれでしょう。

- 1 16年
- 2 36年
- 3 56年
- 4 76年

12. 国分寺を監督^{かんとく}した国司^{こくし}は、国府^{こくふ}で役人として働いていました。国府を現代の場所に例えた場合に当てはまるものは、次のうちどれでしょう。

- 1 国土交通省^{こくどこうつうしょう}
- 2 都道府県庁^{とどうふけんちょう}
- 3 国会議事堂^{こっかいぎじどう}
- 4 最高裁判所^{さいこうさいばんしょ}

13. 武蔵国分寺むさしの僧寺そうじの建物の配置（=伽藍配置がらんはいち）は、次のうちどれでしょう。



14. 武蔵国分寺むさしの中には、様々な役割をもつ建物がありました。建物の名前と役割の組み合わせとして正しいものは、次のうちどれでしょう。

- 1 金堂こんどう — 仏像ぶつぞうが置かれている建物
- 2 講堂こうどう — 大事なお経きょうを保管ほかんしておく建物
- 3 鐘楼しょうろう — 経典きょうてんの勉強しゅぎょうをしたり、修行する建物
- 4 経蔵きょうぞう — 時間を知らせる鐘かねをつるした建物

15. 武蔵国分寺が**つくられた頃**に**作られた焼き物**として**間違っているものは**、次のうちどれでしょう。



16. 次の文章は武蔵国分寺の建物について述べたものです。()に当てはまるものの組み合わせとして正しいものは、次のうちどれでしょう。

武蔵国分寺の中心となる建物は、大陸からもたらされた高度な技術が使われています。金堂では、地盤を強くするために地業と呼ばれる基礎工事を行い、その上に(あ)を置き、柱を建てることで、しっかりと壊れにくい建物となっています。このような建物の構造を(あ)建物といいます。土台となる基壇の上面には(い)と呼ばれる現在のレンガのようなものを敷いていました。

- | | | |
|---|---------|-------|
| 1 | あ - 掘立柱 | い - 塼 |
| 2 | あ - 礎石 | い - 瓦 |
| 3 | あ - 掘立柱 | い - 瓦 |
| 4 | あ - 礎石 | い - 塼 |

17. 国分寺の造営事業ぞうえいの労働の中心となった人として、正しいものは次のうちどれでしょう。

- 1 僧侶そうりよ
- 2 農民
- 3 貴族きぞく
- 4 武士ぶし

18. 次の文章は武蔵国分寺跡むさしこくぶんじあとの調査ちょうさについて述べたものです。()に当てはまるものの組み合わせとして正しいものは、次のうちどれでしょう。

本格的な発掘調査ほんかくてき はつくつちようさは、今から66年前の(あ)31年になってからです。それまでは地上のようすを観察するやり方が中心でしたが、土を慎重しんちょうに掘り起こし、むかしの人たちの生活の痕跡こんせきを調べました。調査がすすむと、武蔵国分寺は(い)ことがわかりました。

- 1 あ - 大正たいしょう い - 全国に建てられた国分寺のなかでもっとも小さい
- 2 あ - 昭和しょうわ い - 全国に建てられた国分寺の平均へいきんてき的な大きさである
- 3 あ - 昭和 い - 全国に建てられた国分寺のなかでもっとも大きい
- 4 あ - 大正 い - 全国に建てられた国分寺のなかでもっとも大きい

19. 武蔵国分寺跡からは、当時の僧侶や役人が使用したと考えられるものが見つ
かっています。奈良時代から平安時代、貴族や役人の服装の一部として使わ
れたものは、次のうちどれでしょう。



20. 次の文章は武蔵国分寺の建物について述べたものです。() に当てはまるものの組み合わせとして正しいものは、次のうちどれでしょう。

武蔵国分寺の造営事業には、つくられた当時の高度な技術が使われています。例えば、建物の重さに耐えられるように、異なる種類の土を交互に突き固めて土を積み上げる(あ)と呼ばれる方法によって建物の土台となる基壇が築かれました。この工法の様子は(い)の金堂にある基壇の(あ)のはぎ取り標本観察施設で実際に見学することができます。

- 1 あ－礎石 い－尼寺跡
- 2 あ－版築 い－僧寺跡
- 3 あ－礎石 い－僧寺跡
- 4 あ－版築 い－尼寺跡

21. 武蔵国分寺の建物のために使用された瓦は、建物が再建されたり修理の時に使われたりしたものを含めると、とてもたくさんの量になります。使用された瓦の量として考えられるのは、次のうちどれでしょう。

- 1 10万枚
- 2 50万枚
- 3 100万枚
- 4 500万枚

22. 武蔵国分寺の七重塔の高さはどのくらいあったと考えられていますか。次のうちどれでしょう。


- 1 30m
- 2 45m
- 3 60m
- 4 75m

23. 右の写真は東京都の文化財に指定されている観世音菩薩立像です。7世紀後半の文化(=百鳳文化)の中で作られたと考えられ、僧寺と尼寺の間を南北に通る東山道武蔵路付近から発見されました。この仏像の素材として正しいものは、次のうちどれでしょう。

- 1 銅
- 2 木
- 3 土
- 4 石



24. 下の写真は武蔵国分寺跡から出土した瓦です。宇瓦（軒平瓦）は、次のうちどれでしょう。



25. 右の写真は国の重要文化財に指定されている
 仏像で、現在は年に1度の10月10日に見学
 することができます。この仏像が安置されて
 いる建物として正しいものは、次のうちどれ
 でしょう。



- 1 国分寺薬師堂
- 2 観音寺
- 3 熊野神社
- 4 八幡神社

26. 現在の国分寺の中にある万葉植物園は、万葉集にでてくる植物を集めてつくられました。名前の由来となっている万葉集を説明しているものは、次のうちどれでしょう。

- 1 合戦（武士の戦い）についてかかれた物語集
- 2 天皇・貴族をはじめ庶民が詠んだ古代の歌集
- 3 貴族が毎日の生活をしるした日記
- 4 過去の出来事を順番に並べて説明した歴史物語

27. 現在の国分寺が所蔵する『医王山縁起』によると、武蔵国分寺は（ ）と鎌倉幕府方との間で行われた戦いによって焼失しました。（ ）に入る人物は、次のうちどれでしょう。

- 1 足利尊氏
- 2 北条早雲
- 3 北条時宗
- 4 新田義貞

28. 鎌倉時代の道路である伝鎌倉街道は、武蔵国分寺のある場所の上を通っています。ある場所として正しいものは、次のうちどれでしょう。

- 1 僧寺
- 2 尼寺
- 3 東山道武蔵路
- 4 参道口

29. 恋ヶ窪村分水は、全長 43 kmの()上水から、新しく水路を分けて水を流した分水です。()に入るのは、次のうちどれでしょう。

- 1 浅川あさかわ
- 2 野川のがわ
- 3 多摩川たまがわ
- 4 玉川たまがわ

30. 次の文章は、恋ヶ窪村分水について述べたものです。()に当てはまるものの組み合わせとして正しいものは、次のうちどれでしょう。

恋ヶ窪村分水は、江戸に幕府が開かれてから約 50 年後の 1657 年につくられ、(あ)に利用されました。分水は、約 300 年のあいだ利用され、(い) 40 年代に入るとその役目を終え、水の流れは途絶えました。

- | | | | | | | |
|---|---|---|------|---|---|----|
| 1 | あ | — | 飲み水用 | い | — | 明治 |
| 2 | あ | — | 農業用 | い | — | 昭和 |
| 3 | あ | — | 飲み水用 | い | — | 昭和 |
| 4 | あ | — | 農業用 | い | — | 大正 |